

Líbano Brasileiro

Centro Educacional Líbano Brasileiro

3ª Ano de Ensino Fundamental

Professora: Maria Cristina

Aluna(a): _____

Disciplina: História.

Turma: 302

1) Marque um X na opção que só aparecem meios de comunicação:

- a) Celular, computador, rádio e televisão.
- b) Computador, televisão, ônibus e rádio
- c) Carro, celular, rádio e jornal.

2) Marque um X na opção que só aparecem meios de comunicações individuais:

- a) Rádio, televisão e carta.
- b) E-mail, rádio e revista.
- c) Carta, telefone e e-mail.

3) Qual é o meio de comunicação mais popular atualmente?

- a) Rádio
- b) Celular
- c) Televisão.

4) O que é tecnologia?

- a) São os satélites.
- b) Conjunto de conhecimentos técnicos e científicos usados nas atividades humanas.
- c) São celulares, computadores e televisores.

5) Marque um X na opção que só aparecem os tipos de comunicações:

- a) Rádio, televisão e computador.
- b) Antena, satélite e internet.
- c) Falada, escrita e visual.



6) Escreva certo ou errado para as frases abaixo:

a) Os meios de transporte podem ser: terrestres, aéreos ou aquáticos.

(_____)

b) A acessibilidade é um direito de todos os cidadãos. (_____)

c) Os veículos que não podem deslocar várias pessoas ao mesmo tempo são os transportes coletivos. (_____)

d) Devemos ter boa convivência com todas as pessoas. (_____)

7) Identifique o meio de comunicação, observando as frases de acordo com a sua descrição:

a) As revistas nos permitem obter informações sobre os mais variados assuntos.

(_____)

b) Por meio de correspondências podemos enviar mensagens e documentos.

(_____)


c) Os livros podem conter histórias e informações sobre diversos temas.

(_____)

d) Por meio do rádio podemos ouvir notícias e músicas.

(_____)

8) Desenhe ou cole o meio de comunicação mais usado atualmente e escreva seu nome:



Líbano Brasileiro

Centro Educacional Líbano Brasileiro

3^ª Ano de Ensino Fundamental

Professora: Maria Cristina

Disciplina: Português.

Aluno(a): _____

Turma: 302

1- Separe as sílabas das palavras abaixo e escreva (monossílabo, dissílabo, trissílabo ou polissílabo), de acordo com o número de sílabas:

a) Carrissel _____/_____

b) Chocolate _____/_____

c) Caminhão _____/_____

d) Cambalhota _____/_____

2- Complete com M ou N. Lembre-se: antes de p e b usamos m.

a) de____te

b) u____bigo

c) li____peza

d) e____pada

e) e____velope

f) lâ____pada

g) e____brulho

h) e____trega

3- Com relação ao número de sílabas, marque a única alternativa que ~~não~~ apresenta apenas palavras Trissílabas:

a) leitura, espelho, iguana

b) Observar, aposta, guarita

c) Carlinda, mesquite, camela

d) linda, saco, flores

4- Leia os sufixos e os prefixos de quadro e forme palavras:

semi- / -mente / i- / -ão / des-

a) analfabete = _____

b) formal = _____

c) legal = _____

d) livro = _____

e) mentir = _____

5- Forme frases com as palavras:

balão = _____

Festa Julina = _____

6- Substitua as expressões em destaque por um substantivo no aumentativo:

a) O homem tem uma casa grande.

b) A janela grande está quebrada.

7- Diga o modelo:

gatinho = singular, masculino - diminutivo

a) jogas = _____, _____, e _____


b) belona = _____, _____, e _____


c) caixinha = _____, _____, e _____

8- Decifre o enigma e copie bem bonito!

“Na minha  haverá uma Festa Julina só da .

Faremos , , ,  e muito mais.

Estaremos nos cuidando. Todos com  e sem aglomerações.”



Centro Educacional Líbano Brasileiro

3^ª Ano de Ensino Fundamental

Professora: Maria Cristina

Disciplina: Matemática.

Líbano Brasileiro

Aluno(a): _____ Turma: 302

1- Decomponha:

a) $648 =$ _____

b) $1.436 =$ _____

2- Escreva por extenso:

a) $999 =$ _____

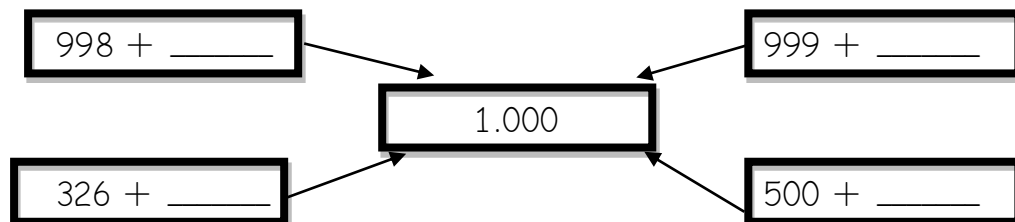
b) $2.386 =$ _____

3- Forme o algarismo:

a) Trezentos e trinta e três = _____

b) Setecentos e noventa e seis = _____

4- Quanta falta?



5- Complete com > (maior que) ou < (menor que) ou = (igual) .

a) 185 _____ $100 + 80 + 6$

c) 300 _____ 1.000

b) 998 _____ $900 + 90 + 8$

d) 1.000 _____ 100

6- Complete:

a) 1 hora = _____ minutos.

b) 60 minutos = _____ segundos.

c) 1 dia = _____ horas.

7- Efetue:

a) $8 \times 3 = \underline{\hspace{2cm}} + 24 = \underline{\hspace{2cm}} - 10 = \underline{\hspace{2cm}}$

b) $25 : 5 = \underline{\hspace{2cm}} \times 5 = \underline{\hspace{2cm}} + 15 = \underline{\hspace{2cm}}$

c) $7 \times 7 = \underline{\hspace{2cm}} : 7 = \underline{\hspace{2cm}} \times 3 = \underline{\hspace{2cm}}$

8- Complete o calendário relacionado ao mês de junho de 2020:

CALENDÁRIO JUNHO -2020



DOMINGO	SEGUNDA-FEIRA	TERÇA-FEIRA	QUARTA-FEIRA	QUINTA-FEIRA	SEXTA-FEIRA	SÁBADO

9- Some e efetue:

a) $3965 + 5432 + 126 =$

b) $593 - 898 =$

c) $398 \times 6 =$

d) $45 : 5 =$

6- Indique por onde respiram cada ser vivo abaixo:

Peixe _____ Planta _____
Ser humano _____


7- O que é luz solar?

8- Identifique a importância da luz solar em cada situação abaixo:

Camaleões _____

Larvas _____

9- Cole figuras de objetos que possam lhe proteger da luz solar.



Líbano Brasileiro

Centro Educacional Líbano Brasileiro

3^ª Ano de Ensino Fundamental

Professora: Maria Cristina

Disciplina: Geografia.

Aluno(a): _____ Turma: 302

1- Marque (x) na resposta certa.

a) Atividade econômica realizada com o cuidado da terra.

() pecuária

() agricultura

() comércio

b) Atividade feita para a criação de animais.

() comércio

() pecuária

() extrativismo

c) Atividade econômica que consiste na retirada de matérias da natureza:

() pecuária

() extrativismo

() agricultura

d) Atividade econômica realizada na fabricação de automóveis:

() extrativismo

() indústria

() comércio

2- O que são serviços públicos?

3- Escreva três serviços públicos realizados em seu município:

4- Complete com as palavras do quadro:

Posto de Saúde - Corpo de Bombeiros - Polícia

a) O _____ é encarregada de manter a segurança pública.

b) O _____ apaga os incêndios.

c) Os _____ aplicam -se vacinas.

5- Relacione:

(a) Tratamento de Água

(b) Tratamento de esgoto

() Depois de utilizada, a água se torna imprópria para o consumo.

() A água tratada nos reservatórios é própria para a população.

() O esgoto passa por uma série de tanques de tratamento.

6- O que o lixo acumulado pode causar à população?

7- Dê o significado de ONG.

8- Indique a atividade econômica para os produtos abaixo.

a) Madeira - minério de ferro - peixes = _____

b) Milho - frutas - verduras = _____


c) Celular - automóveis - iogurte = _____

9- Que veículos esses profissionais conduzem?

Taxista = _____

Caminhoneiro = _____

Tratorista = _____



Centro Educacional Líbano Brasileiro

3^ª Ano de Ensino Fundamental

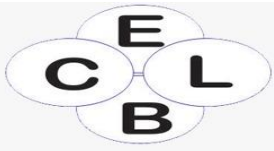
Professora: Maria Cristina

Disciplina: Arte.

Líbano Brasileiro

Aluno(a): _____ Turma: 302

- 1- Crie um belo mosaico conforme você fez no seu livro de Arte. Use bastante a sua criatividade.



Centro Educacional Líbano Brasileiro

Professora: Rosemary

Turma: 302

Disciplina: Inglês

Líbano Brasileiro

Aluno (a): _____.

1) Check the best option : (Marque a melhor opção .)

a) My  is beautiful.

() home () school () drugstore

b) The  is big.

() restaurant () bank () airport

c) The  is small.

() drugstore () hospital () home

d) The  is beautiful.

() restaurant () fire station () park

e) The  is CELB.


() police station () school () hospital

f) The _____ has a lot of book.



() supermarket () home () bookstore

g) The _____ is a lot of money.



() bank () bookstore () school

h) The _____ is big.



() street () city () avenue

i) The _____ is good.



() club () restaurant () church



j) The _____ has hero.



() fire station () past office () police station

• Vocabulary

a lot of -	muito
beautiful -	bonito
big -	grande
good	bom/ bem
has -	tem
money -	dinheiro
post office -	agência de correios

Centro Educacional Libano Brasileira

Professora: Maria Cristina

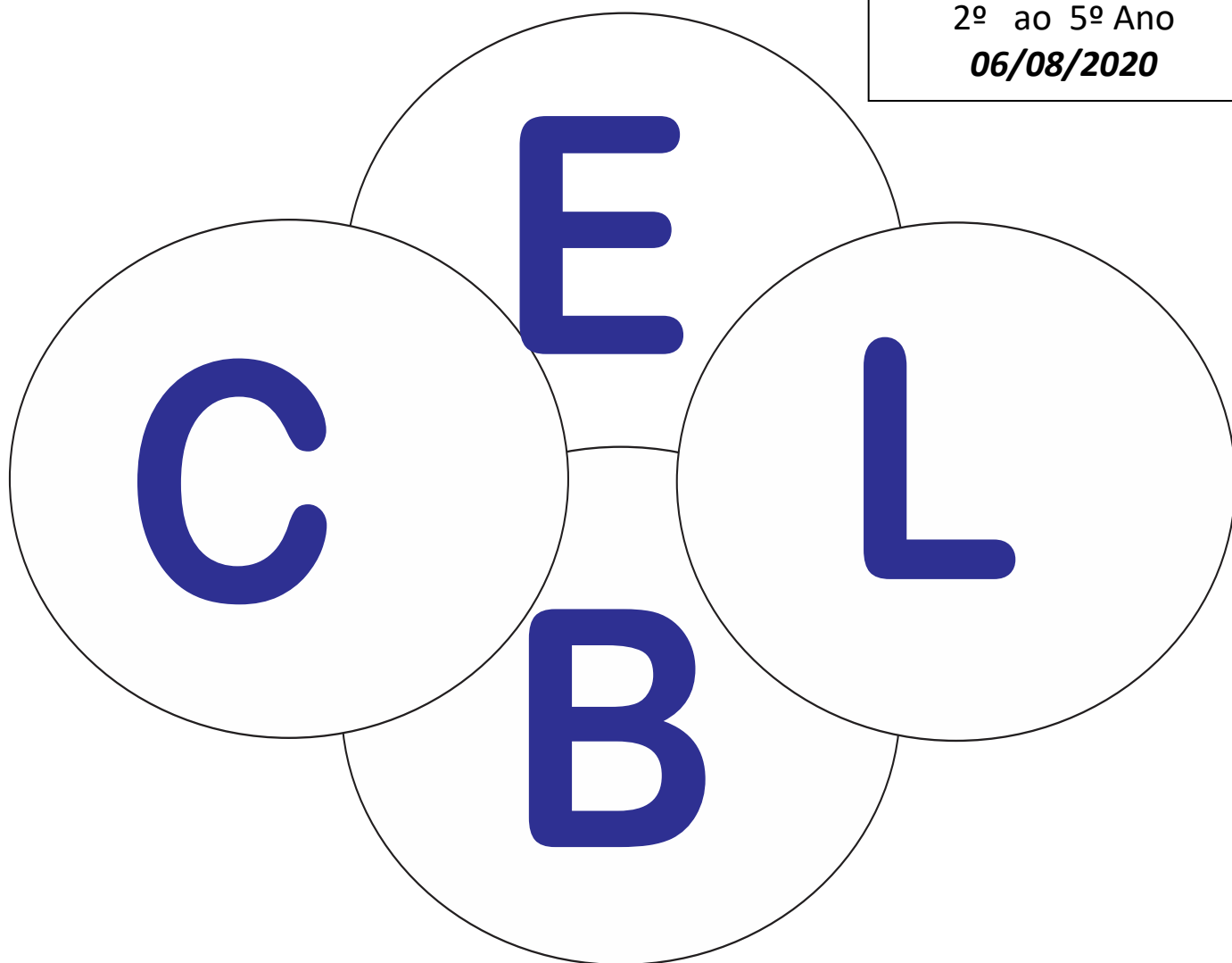
Turma: 302 - Ensino Fundamental

Aluno (a): _____

6º BLOCO

2ª Avaliação Bimestral/2020

Devolução do 6º Bloco
2º ao 5º Ano
06/08/2020



Há mais de quatro décadas educando com amor.