

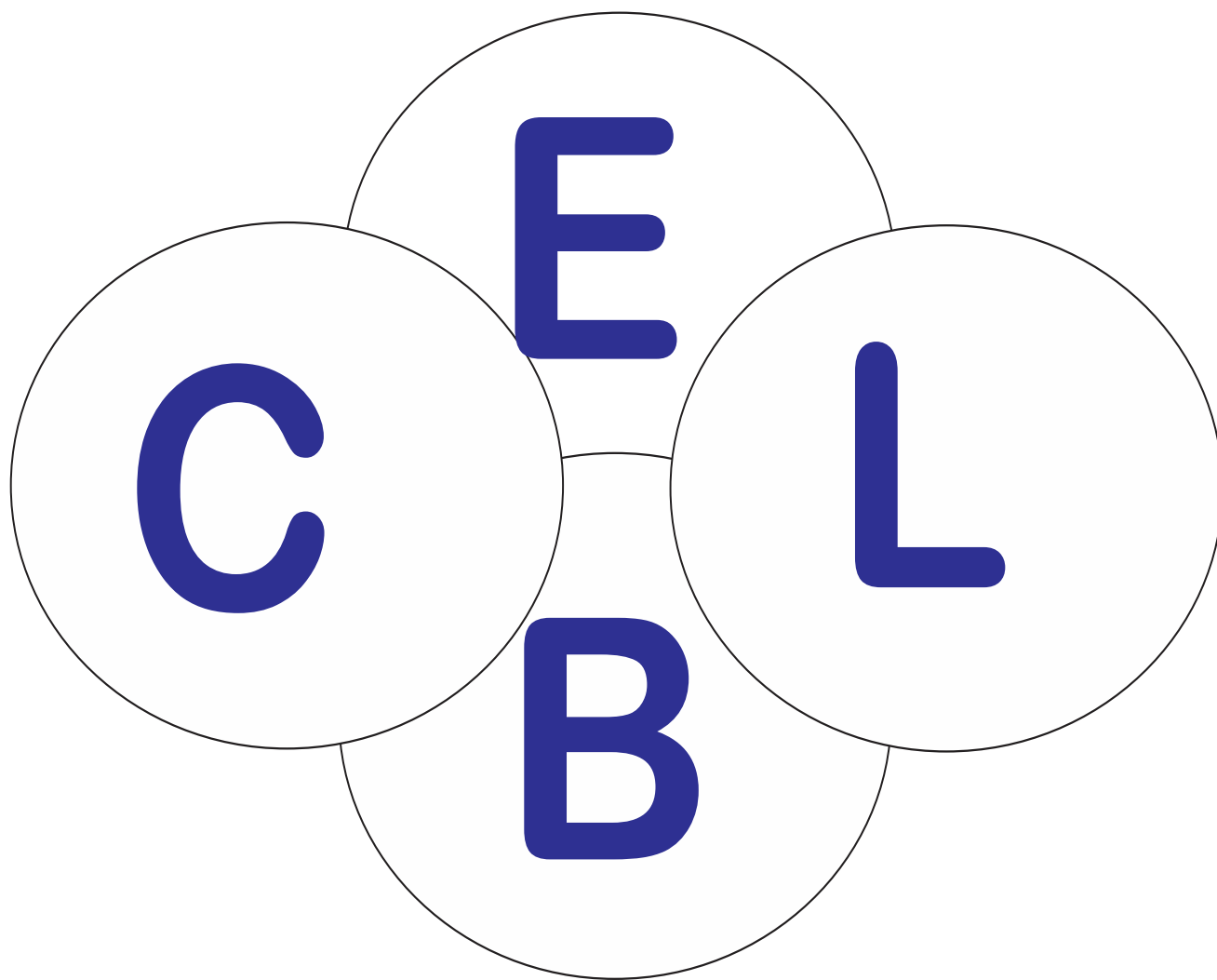
Centre Educacional Libano Brasileiro

Professora: Maria Cristina


Turma: 302 - Ensino Fundamental

Aluno(a): _____

4º Bloco de Atividades



Há mais de quatro décadas educando com amor.



Centro Educacional Líbano Brasileiro

3^ª Ano de Ensino Fundamental – Turma: 302

Líbano Brasileiro

Professora: Maria Gristina

Disciplina: Matemática

1. Transforme as adições em multiplicações:

a) $3 + 3 + 3 + 3 =$ _____ ou _____ x _____ = _____

b) $5 + 5 + 5 + 5 + 5 =$ _____ ou _____ x _____ = _____

c) $2 + 2 + 2 + 2 + 2 =$ _____ ou _____ x _____ = _____

2. Dê o que se pede:

a) O dobro de 9 = _____

b) O triplo de 6 = _____

c) O quádruplo de 8 = _____

3. Complete a tabuada:

a) $2 \times 4 =$ _____ $2 \times 6 =$ _____ $2 \times 8 =$ _____

b) $3 \times 3 =$ _____ $3 \times 5 =$ _____ $3 \times 7 =$ _____

c) $4 \times 2 =$ _____ $4 \times 4 =$ _____ $4 \times 2 =$ _____

4. Efetue as multiplicações:

a) $\begin{array}{r} 82 \\ \times 3 \\ \hline \end{array}$

b) $\begin{array}{r} 44 \\ \times 4 \\ \hline \end{array}$

5. Resolva as operações e escreva o resultado por extenso:

a) $10 \times 3 =$ _____ $=$ _____

b) $10 \times 6 =$ _____ $=$ _____

c) $10 \times 7 =$ _____ $=$ _____

6. Continue efetuando e escreva os termos da multiplicação:

$11 \longrightarrow$ _____	$21 \longrightarrow$ _____
$\times 2 \longrightarrow$ _____	$\times 3 \longrightarrow$ _____
\longrightarrow _____	\longrightarrow _____

7. Complete as sequências:

a) $3 \times 3 =$ _____ $- 6 =$ _____ $\times 2 =$ _____

b) $4 - 2 =$ _____ $\times 5 =$ _____ $\times 3 =$ _____

c) $5 + 4 =$ _____ $\times 3 =$ _____ $- 4 =$ _____

8. Circule o resultado da operação: $3 \times 3 + 4 =$

$13 - 21 - 31$

9. Complete as multiplicações de 6 e 7 :

$6 \times 1 =$

$7 \times 1 =$

$6 \times 2 =$

$7 \times 2 =$

$6 \times 3 =$

$7 \times 3 =$

$6 \times 4 =$

$7 \times 4 =$

$6 \times 5 =$

$7 \times 5 =$

$6 \times 6 =$

$7 \times 6 =$

$6 \times 7 =$

$7 \times 7 =$

$6 \times 8 =$


$7 \times 8 =$

$6 \times 9 =$

$7 \times 9 =$

$6 \times 10 =$

$7 \times 10 =$



Centro Educacional Líbano Brasileiro

3^ª Ano de Ensino Fundamental – Turma: 302

Líbano Brasileiro

Professora: Maria Cristina

Disciplina: História

1. Responda:

a) De que maneira podemos nos deslocar de um lugar para o outro?

b) Como os meios de transportes podem ser utilizados?

c) Como são classificados os meios de transportes?

2. Explique:

a) Transportes terrestres =

b) Transportes aquáticos =

c) Transportes aéreos =

3. O que são os transportes coletivos?

4. Escreva o nome de três transportes que podemos considerar coletivo.

5. Descubra qual é o transporte:

a) Esses trens costumam ser subterrâneos:

b) Foi um dos primeiros transportes coletivos no Brasil:

6. Descubra quem são os condutores desses meios de transportes:

a) Ônibus = _____


b) Trem = _____

c) Avião = _____

7. Qual o seu meio de transporte favorito?

8. Desenhe o semáforo e escreva sua função.

9. Faça no caderno de meia pauta um belo trabalho sobre: Abolição da Escravatura – 13 de Maio.



1. Passe para o plural os substantivos abaixo:

o cachorro = _____

o lápis = _____

a vassoura = _____

o pires = _____

a ciclista = _____

o ônibus = _____

2. Coloque o artigo correto:

a) _____ cão (o – os)

b) _____ estrelas (a – as)

c) _____ animal (um – uns)

d) _____ mapas (um – uns)

e) _____ mascotes (o – os)

f) _____ tenista (um – uns)

3. Reescreva as frases, passando – as para o singular:

a) Os atletas ganharam o torneio.

b) As mascotes dançaram muito no Brasil.

4. Coloque as palavras na ordem alfabética:

a) amarelo – paixão – Eva – dia.

b) lua – beijo – Deus – céu.

5. Indique o gênero e o plural dos substantivos abaixo:

banana _____ e _____

dicionário _____ e _____

caçada _____ e _____

6. Forme uma frase com:

Dicionário = _____

Ábaco = _____

7. Separe as sílabas e copie-as novamente:

miragem = _____

jiboia = _____

viajante = _____

gibi = _____

8. Escreva cinco palavras com g.

_____, _____, _____, _____ e
_____.

9. Complete com g ou j as palavras e copie – as novamente.

má _____ ico = _____

_____ eito = _____


Lo _____ ista = _____

reli _____ ião = _____

_____ ibi = _____

_____ iló = _____

- Cole cinco palavras com G ou J.



Centro Educacional Líbano Brasileiro

3^ª Ano de Ensino Fundamental – Turma: 302

Líbano Brasileiro

Professora: Maria Cristina

Disciplina: Geografia

1. Complete:

- a) O _____ é toda atividade realizada pelas pessoas com o fim de suprir uma necessidade.
- b) É com ajuda do _____ que conseguimos trocar os pneus do carro.

2. Escreva certo ou errado:

- a) As pessoas trabalham e recebem um salário.
(_____)
- b) Todas as profissões são importantes.
(_____)
- c) Comemoramos o Dia do Trabalhador, sempre no dia 1º de maio.
(_____)

3. O que é trabalho voluntário?

4. Explique o trabalho infantil:

5. Relacione:

(a) Agricultura

(b) pecuária

(c) extrativismo

() Atividade de criar o gado.

() atividade de cuidar da terra.

() atividade que extrai tipos de produtos da natureza.

6. Identifique o profissional:

a) Cuida de idosos = _____

b) Ensina aos alunos = _____

c) Trata dos dentes = _____

d) São trabalhadores que cuidam das pessoas doentes:

7. Que profissão você quer exercer?

8. Cole figuras que representem:

agricultura


-

pecuária

Comércio

-

indústria



Centro Educacional Líbano Brasileiro

3ª Ano de Ensino Fundamental – Turma: 302

Líbano Brasileiro

Professora: Maria Cristina

Disciplina: Ciências

1. Marque (X) nas frases corretas:

- () A maior parte da superfície terrestre é coberta por água.
- () A água salina é armazenada em reservatórios rasos.
- () Os mares e os oceanos são compostos por água doce.

2. Copie a explicação sobre “Mar Morto”, da página 187.

3. Explique:

- Água salgada=


4. O que forma a água doce das nascentes?

5. Como podemos usar a água para o consumo humano?

6. Que tipo de água é própria para os seres vivos?

7. Escreva três situações que podem contribuir para economizar água.

8. Cole figuras que mostrem a poluição na água.



Líbano Brasileiro

Centro Educacional Líbano Brasileiro

Professora: Rosemary

Turma: 302

3^ª ano - Ensino Fundamental

Disciplina: Inglês

English Exercises

1) Choose the correct answer:

a) She has black hair.



()



()

b) He is short boy.



()



()

2) Complete with There is (singular) or There are (plural) .

a).....a coffee table in the living.

b).....two pillows on the bed.

c).....four cats in the kitchen.

d).....a bathtub and a mirror in the bathroom.

3) Use **Have** (Ter = I- you – we – they) or **Has** (he – she – it) .

a) She.....long hair.

b) You.....moustache.

c) He..... curly hair.

d) They.....short hair.

4) Draw (Desenhe):

microwaver



coffe table



bookshelf



lamp

